

السؤال الأول : اختر الإجابة الصحيحة من بين الإجابات التي تلي كل عبارة ثم ظلل الدائرة التي أمامها

١ - من النتائج الاقتصادية المترتبة علي مشكلات الحدود بين الدول العربية :

- ☐ اندلاع العديد من الحروب
- ☐ التقليل من المكانة السياسية للوطن العربي
- ☐ بقاء قدر من التبعية السياسية للدول الاستعمارية
- ☐ ليس مما سبق

٢ - النهر الذي تجري مياهه من الجنوب إلي الشمال في المجموعة التالية :

- ☐ دجلة
- ☐ العاصي
- ☐ الليطاني
- ☐ الحصباني

٣ - الدولة العربية التي وقعت تحت الاحتلال الفرنسي

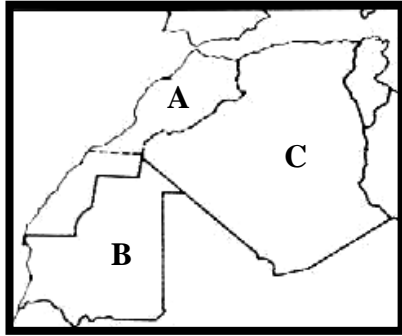
في المجموعة التالية :

☐ A

☐ B

☐ C

☐ صحيح كل ما سبق



٤ - لجأت دولة الكويت إلي تقنية تحليه مياه البحر عام :

- ☐ ١٩٥٠ م
- ☐ ١٩٥١ م
- ☐ ١٩٥٢ م
- ☐ ١٩٥٣ م

٥ - النهر الدولي في المجموعة التالية :

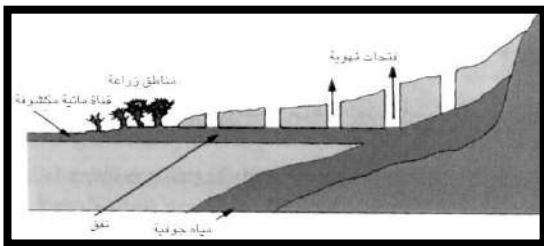
- ☐ الخابور
- ☐ السبوع
- ☐ مجردة
- ☐ النيل

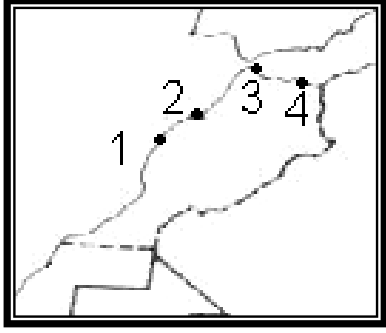
٦ - جزر الإمارات العربية الثلاث التي قامت إيران باحتلالها في ٣٠ نوفمبر ١٩٧١ م هي :

- ☐ طنط الكبير - طنط الصغير - ستره
- ☐ طنط الكبير - داس - طنط الصغير
- ☐ أبو موسى - طنط الكبوي - طنط الصغير

٧ - الصورة المقابلة تمثل :

- ☐ نبع
- ☐ ثميلة
- ☐ بئر جوفي
- ☐ فلج





٦ - مدينة (سبتة) التي احتلها الأسبان عام ١٤١٥ م تحمل في

الشكل المقابل الرقم :

- 1 ○ 2 ○ 3 ○ 4 ○

٧ - قامت إيران باحتلال جزيرة أبو موسي في ٣٠ نوفمبر ١٩٧١ م بسبب :

- توفر النفط ○ وجود أكسيد النحاس ○ توفر أكسيد الحديد ○ توفر أكسيد المنجنيز

٨ - المصدر المائي الرئيسي الذي تعتمد عليه دول مجلس التعاون لدول الخليج العربية هو :

- الأمطار ○ الأنهار القصيرة ○ المياه الجوفية ○ تحليه مياه البحر

٩ - زيادة معدل استهلاك المياه في بعض الأقطار العربية يرجع إلي :

- ارتفاع مستوى المعيشة ○ النمو الصناعي المطرد ○ زيادة معدل استهلاك مياه الري ○ كل ما سبق صحيح

١٠ - المشكلة الحدودية بين قطر والبحرين سببها الخلاف علي :

- جزيرة حالول ○ جزيرة حوار ○ جزيرة داس ○ جزيرة طناب الكبرى

١١ - زادت الأطماع العراقية في الأراضي الكويتية بعد اكتشاف النفط في حقل برقان عام :

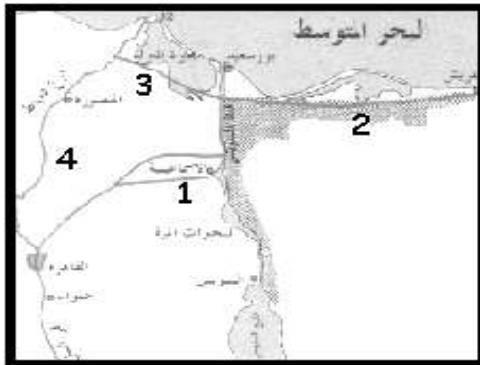
- ١٩٣٤ م ○ ١٩٣٦ م ○ ١٩٣٨ ○ ١٩٤٠ م

١٢ - نسبة الأراضي الصحراوية بالنسبة لمجموع أراضي الوطن العربي :



١٣ - ترعة (الشيخ جابر) في الشكل المقابل يرمز إليها بالرقم :

- ١ ○
٢ ○
٣ ○
٤ ○



١٤ - الدائرة البيانية التي تمثل نسبة سكان الوطن العربي بالنسبة لعدد سكان العالم هي :



١٥ - الدولة (A) في الشكل المقابل يجري بها نهر اسمه :

○ مجردة ○ السبوع

○ أم الربيع ○ الشليف

١٦ - اقل الدول العربية من حيث نصيب الفرد من المياه عام ١٩٩٥م

○ الكويت ○ الجزائر ○ الأردن ○ اليمن

١٧ - تم التوقيع علي الاتفاقية العثمانية البريطانية حول منطقة الخليج العربي عام :

○ ١٩١١م ○ ١٩١٣م ○ ١٩١٥م ○ ١٩١٧م

١٨ - الجزيرة المغربية التي احتلتها أسبانيا بعد عام ١٩٦٨م في المجموعة التالية :

○ النكور ○ بادس ○ ملوية ○ البرهان

١٩ - الآية الكريمة التي تكرم العلم والعلماء ، وترفع من شأن العلم في المجموعة التالية :

○ (قُلْ هَلْ يَسْتَوِي الَّذِينَ يَعْلَمُونَ وَالَّذِينَ لَا يَعْلَمُونَ) ○ (يَرْفَعُ اللَّهُ الَّذِينَ آمَنُوا مِنْكُمْ وَالَّذِينَ أُوتُوا الْعِلْمَ دَرَجَاتٍ)

○ (إِنَّمَا يَخْشَى اللَّهَ مِنْ عِبَادِهِ الْعُلَمَاءُ) ○ كل ما سبق من الآيات

٢٠ - (الهوية والذاتية الثقافية) تعريف لـ :

○ التغريب ○ الأصالة ○ الحداثة ○ التقليد

٢١ - قرار مجلس الأمن الخاص بترسيم الحدود الكويتية العراقية صدر عام :

○ ١٩٩٠م ○ ١٩٩١م ○ ١٩٩٢م ○ ١٩٩٣م

٢٢ - من النتائج الاجتماعية المترتبة علي مشكلات الحدود في الوطن العربي في المجموعة التالية :

○ التقليل من المكانة السياسية للوطن العربي ○ استنزاف الثروة العربية في الحروب
○ فقدان طاقات بشرية بسبب الحروب ○ تدني المستوى المعيشي للإنسان العربي

٢٣ - الترتيب التنازلي الصحيح للدول العربية الأولي في نصيب الفرد من المياه يمثلته الحرف :

○ مصر - ليبيا - العراق ○ العراق - سوريا - مصر

○ العراق - مصر - ليبيا ○ مصر - العراق - سوريا

٢٤- يلتقي رافدي دجلة و الفرات عند منطقة القرنة مشكلان نهر

- نهر النيل ○ النيل الأزرق ○ نهر الأردن ○ نهر شط العرب

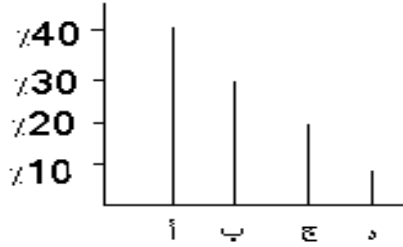
٢٥- عرف خط أنابيب المياه الممتد من جنوب ليبيا إلى شمالها باسم نهر

- الصين ○ النيل ○ النهر العظيم ○ دجلة

٢٦- تم اكتشاف حقل برقان عام

- ١٩٣٥ ○ ١٩٣٦ ○ ١٩٣٧ ○ ١٩٣٨

٢٧- نسبة المساحة المزروعة في الوطن العربي يمثلها الحرف:



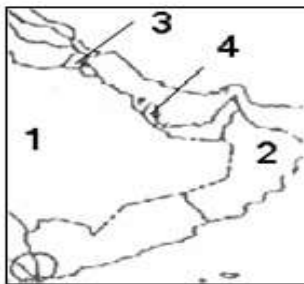
- أ ○ ب
○ ج ○ د

٢٨- أشهر وأقدم السدود التاريخية في الوطن العربي يسمى سد :

- مأرب ○ الفرات ○ العالي ○ وادي مجردة

٢٩- الترتيب التنازلي الصحيح لاستخدامات المياه في الوطن العربي يمثلها الحرف :

- الزراعة - الشرب - الصناعة
○ الزراعة - الصناعة - الشرب
○ الشرب - الصناعة - الزراعة
○ الصناعة - الزراعة - الشرب



٢٤- أول دولة خليجية لجأت لصناعة تحليه مياه البحر تحمل علي الخريطة

المقابلة الرقم :

- ١ ○ ٢
○ ٣ ○ ٤

السؤال الثاني: (أ) صنف البيانات التالية في المكان المناسب لها

أم الربيع - الحصباني - مجردة - دجلة - النيل - الشليف - الليطاني - مولاي - الفرات - السبوع

الدولة	مصر	العراق	تونس	الجزائر	المغرب	لبنان
النهر						

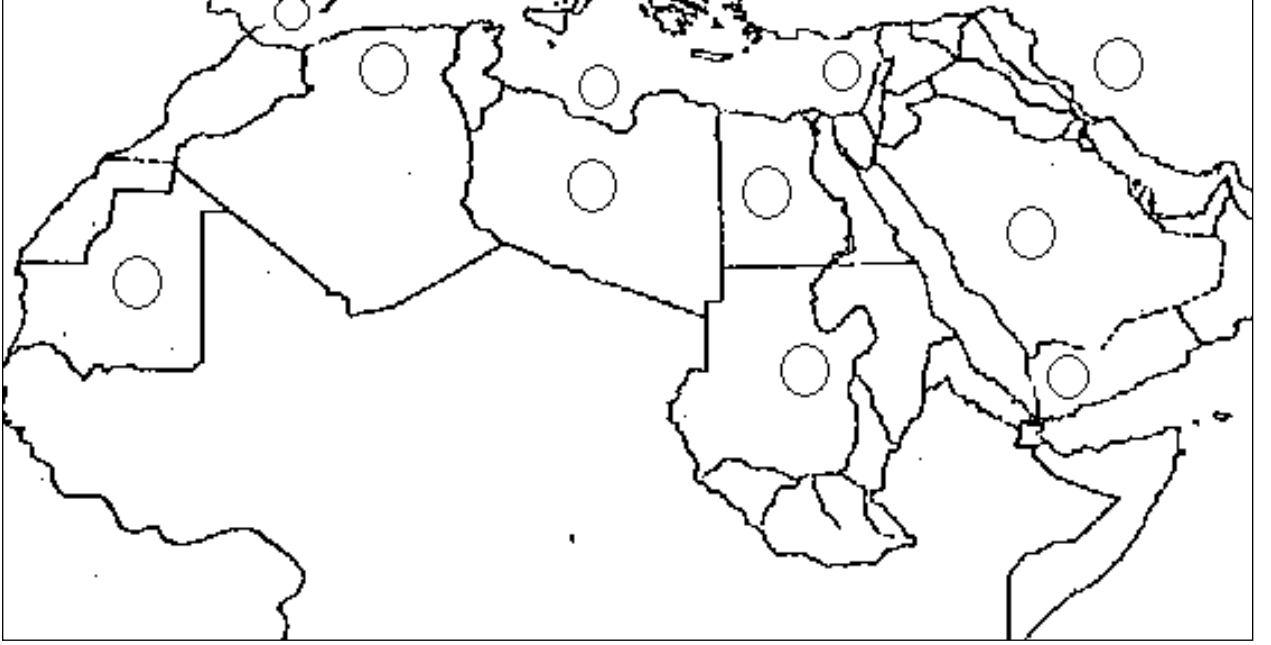
(ب)

السد العالي - سد الحبانية - سد الثرثار - سد الكوت - سد الهندية - سد بن لويان - سد بني عامر -
سد السوس - سد شارون - سد مجردة - سد وادي غريب

مصر	تونس	العراق	الجزائر	المغرب

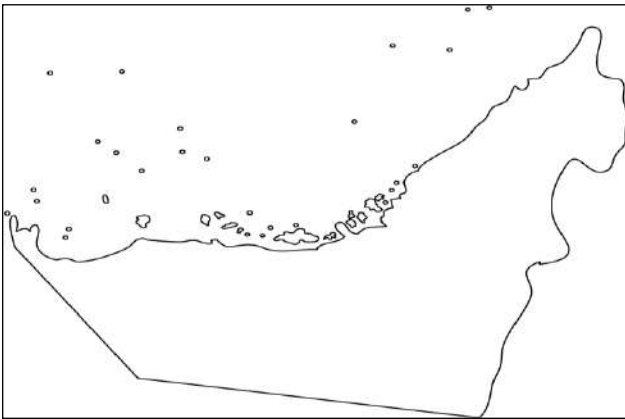
السؤال الثالث :

(أ) أمامك خريطة صماء للوطن العربي حدد عليها ما يلي : (بكتابة الرقم في المكان الصحيح)



- ١- الدولة العربية الأكثر من حيث عدد الأنهار والينابيع وغزارة أمطاره وتلوجه
- ٢- أطول الأنهار العربية
- ٣- الدولة العربية التي تستفيد من مياه خور القاش في الزراعة
- ٤- الدولة العربية التي بها وادي الرمة والباطن والد واسر وفاطمة ونجران وجيزان
- ٥- الدولة العربية التي يوجد بها ما يسمى بالنهر العظيم
- ٦- الدولة العربية الرائدة في تحلية مياه البحر المالحة منذ أوائل الخمسينات (١٩٥٢م)

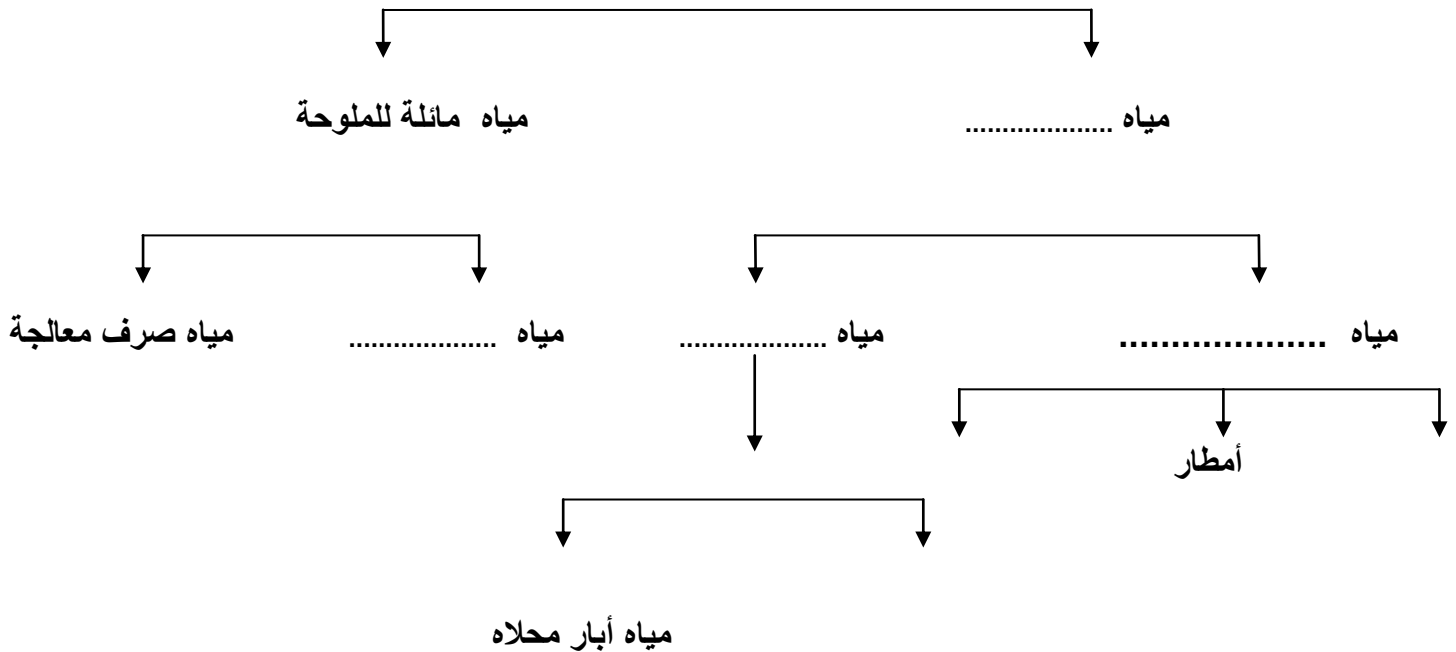
(ب) حدد علي خريطة الإمارات الصماء الآتي :



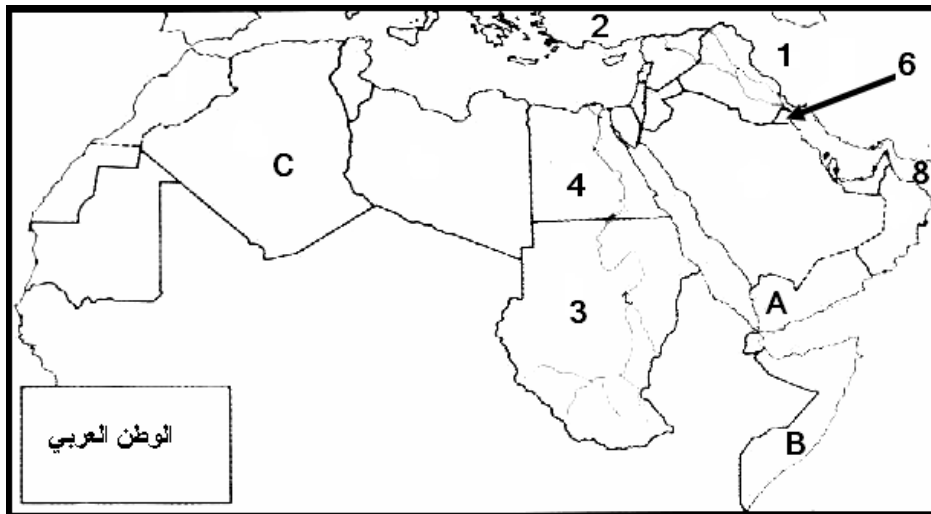
- ١- جزيرة أبو موسى
- ٢- الخليج العربي
- ٣- طناب الكبرى
- ٤- مضيق هرمز
- ٥- طناب الصغرى

(ج) أكمل المخطط السهمي التالي :

مصادر المياه في الوطن العربي



(د) أدرس الخريطة التالية جيدا ثم أجب عن الأسئلة التي تليها



- ١ - الدولة العربية الرائدة في مجال تحليه مياه البحر يمثلها علي الخريطة الرقم :
- ٢ - (خور القاش) وادي جاف تم حجز مياهه للاستفادة منها في الزراعة في الدولة التي تحمل الرقم :
- ٣ - تم بناء السد العالي في الدولة التي تحمل الحرف :
- ٤ - خليج عمان يمثلها علي الخريطة الرقم :
- ٥ - اقل الدول العربية من حيث نصيب الفرد من المياه عام ١٩٩٥م يمثلها علي الخريطة الحرف :
- ٦ - الدولة التي ينبع منها رافدي دجلة والفرات يمثلها علي الخريطة الرقم :

السؤال الرابع : فرق بين كل من

المياه الصناعية	المياه الطبيعية
التخوم	الحدود السياسية
مياه الصرف الصناعي	مياه الصرف الزراعي
مياه الصرف الزراعي	مياه الصرف الصحي
حدود فلكية	حدود هندسية
التقليد	الحداثة
الأفلاج	الينابيع
التغريب	الأصالة

السؤال الخامس : اختر المفهوم / المصطلح العلمي المناسب للتعريفات التالية

(الأصالة - الثقافة - الحداثة - التقليد - التغريب)

م	المفهوم/ المصطلح	التعريف
١		التراث الموروث عن الآباء والاجداد
٢		جميع السمات المادية والروحية والفكرية التي تميز مجتمعاً بعينه أو فئة اجتماعية بعينها
٣		الارتباط بتطورات اليوم والغد واستيعاب تيارات العصر مع الحفاظ علي الهوية الحضارية
٤		الهوية والذاتية الثقافية

السؤال السادس : أكتب مذكرات تاريخية مختصرة عن

١ - معالجة مشكلات الحدود في الوطن العربي

أ - (-----)

ب - (-----)

ج - (-----)

٢ - ترسيم الحدود بين دولة الكويت والعراق

٣ - النتائج السياسية المترتبة علي مشكلات الحدود في الوطن العربي

أ - (-----)

ب - (-----)

ج - (-----)

د - (-----)

٤ - موقف الجامعة العربية من أزمة ١٩٦١م (بين دولة الكويت والعراق)

٥ - طرق المحافظة علي الموارد المائية في الوطن العربي

٦ - تحلية مياه البحر في منطقة الخليج العربي

السؤال السابع : ماهي النتائج المترتبة علي

١ - مشكلات الحدود في الوطن العربي من الناحية الاقتصادية

- أ)-----
ب)-----
ج)-----

٢ - بناء السد العالي

- أ)-----
ب)-----
ج)-----

٣ - احتلال أسبانيا سبتة ومليلة

- -----

٤- إنشاء بحيرة ناصر في مصر كأحدى مشاريع الري الهامة

- أ)-----
ب)-----
ج)-----

٥- قيام عدد من السدود لحجز مياه بعض الأودية في أنحاء مختلفة من شبه الجزيرة العربية

- أ)-----
ب)-----
ج)-----

السؤال الثامن : فسر ما يأتي

١ - تزايد حدة مشكلة المياه في الوطن العربي في السنوات الأخيرة

----- *

----- *

٢ - مماثلة النظام العراقي في ترسيم الحدود مع دولة الكويت

----- *

----- *

٣ - تتعدد وتتنوع مشكلات الحدود في الوطن العربي

----- أ ()

----- ب ()

----- ج ()

٤ - قيام إيران باحتلال جزر الإمارات الثلاث عام ١٩٧١م

----- أ ()

----- ب ()

٥ - تعتبر لبنان من أغني دول المشرق العربي بالمياه

٦ - انتشار عمليات تحليه مياه البحر في منطقة الخليج العربي علي الرغم من ارتفاع تكاليف إنتاجها

----- أ ()

----- ب ()

٧ - تواجه بعض الدول العربية مشكلة الخطر الخارجي الذي يهدد المياه السطحية

٨ - بعد سقوط النظام الملكي في العراق وقيام النظام العسكري واجهت الحكومة الجديدة مشكلات متعددة

أ ()

ب ()

٩ - زيادة معدل استهلاك المياه في الوطن العربي

١٠ - انتشار عمليات تحليه مياه البحر في دول مجلس التعاون الخليجي رغم ارتفاع التكاليف.

١١ - ارتفاع معدل نصيب الفرد من المياه في كل من مصر و العراق.

١٢ - ارتفاع نسبة الاستهلاك المنزلي للمياه في كل من السعودية و الكويت.

١٣ - مماطلة الحكومة العراقية في ترسيم الحدود سنة ١٩٣٢ م .

١٤ - حرص الاستعمار علي إيجاد التجزئة السياسية بين دول الوطن العربي .

١٥- مفاظلة النظام العراقي في ترسيم الحدود مع دولة الكويت .

*

*

١٦- قيام أسبانيا باحتلال سبته ومليلة ومجموعة الجزر المغربية .

*

*

١٧- تعتبر الثقافة منظومة متكاملة.

*

*

١٨- حافظت اللغة العربية علي إستمراريتها بالرغم من عوامل التغير الثقافي .

*


*

السؤال التاسع :

أكمل الجدول بذكر النتائج المترتبة علي سوء استخدام المياه . . . ثم استخرج حلولاً لهذه المشكلة

المشكلة	أهم النتائج المترتبة عليها	الحلول المقترحة
سوء استخدام المياه	١-	١-
	٢-	٢-
	٣-	٣-
	٤-	٤-

السؤال العاشر : حول نسب مجالات استخدام المياه في الوطن العربي التالية إلى دائرة بيانية .



أ - زراعة ٨٧.٩%

ب-منزلي ٧.٤%

ج- صناعة ٤.٧%

السؤال الحادي عشر : دلل علي صدق العبارات التالية

١ - ساهمت اتفاقية ١٩١٣ م علي بطلان الادعاءات الكويتية تجاه دولة الكويت

٢ - تواجه بعض الدول العربية مشكلة الخطر الخارجي المهدد لمياهها السطحية
